

## Cad is píchairt ann?

Taispeánann muid eolas (sonraí) i giorcal ar píchairt.

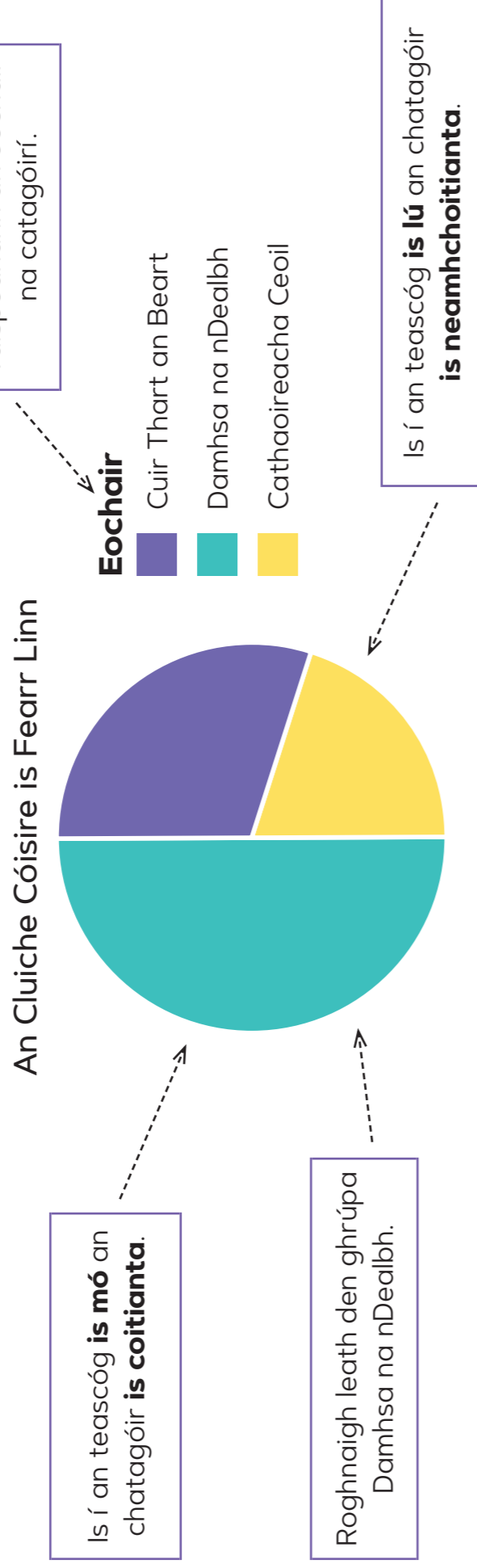
Tá an ciorcal déanta de **teascóga**, agus seasann gach teascóg do chatagóir ar leith.

## Cad chuige a mbaineann muid úsáid as píchairt?

Baineann muid úsáid as píchairt le sonraí a **chur i gcomparáid lena chéile**.

Tá sé furasta an chatagóir is coitianta agus/nó is neamhchoitianta a fheiceáil ar píchairt.

## Ciall a bhaint as píchairt



## Ciall a bhaint as píchairt ar a bhfuil teascóga cothroma marcáilte

- Cuntais na teascóga sa chiorcal iomlán
- Cuntais na teascóga sa chatagóir atá de dhíth ort
- Scríobh sin mar chodán den líon iomlán
- Oibrigh amach an codán

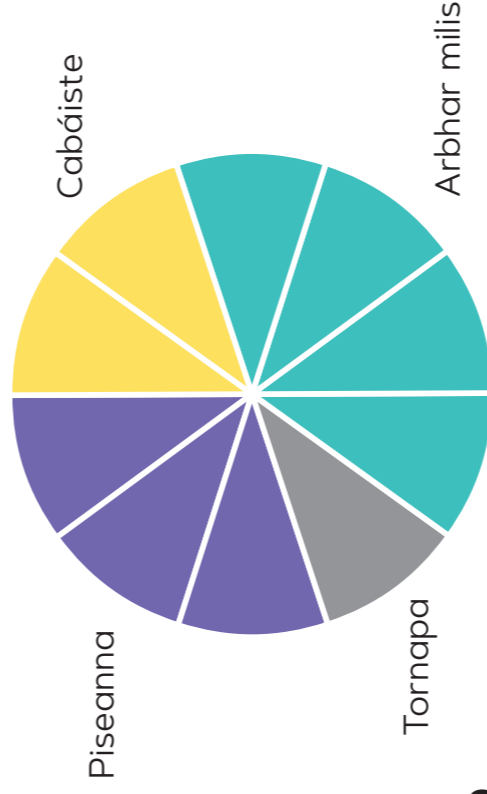
Mar shampla, cá mhéad den 200 duine ar farr leo cabáiste?

Baineann 2 theascóg as 10 le cabáiste

Mar sin de, seo an codán ar farr leo cabáiste:  $\frac{2}{10} = \frac{1}{5}$

Seo líon na ndaoine ar farr leo cabáiste:  $\frac{1}{5}$  de 200 =  $200 \div 5 = 40$

An Glasra is Fearr Linn



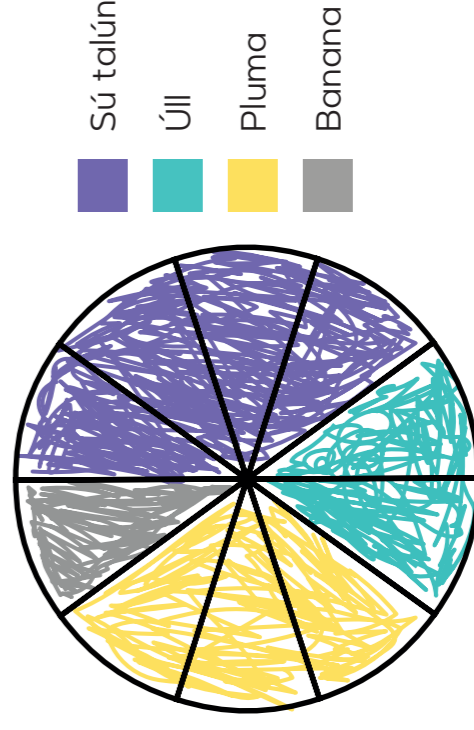
## Píchairt a tharraingt ar theimpléad ar a bhfuil na teascóga marcáilte

Comhdhéanamh Sailéad Torthaí

Torthaí	Líon
Sú talún	4
Úll	2
Pluma	3
Banana	1
<b>iomlán</b>	<b>10</b>

- Faigh líon iomlán na gcodanna
- Roghnaigh teimpléad a bhfuil an líon sin teascóg air
- Dathaigh na teascóga leis na codanna éagsúla a thaispeáint
- Cuir **teideal** agus **eochair** leis

Comhdhéanamh Sailéad Torthaí



### Leibhéal 3

An rud is coitianta/ is neamhchoitianta a aithint ar píchairt shimplí.

### Leibhéal 4

Na catagóirí a liostú in ord, ón cheann is coitianta go dtí an ceann is neamhchoitianta.  $\frac{1}{2}$  agus  $\frac{1}{4}$  den píchairt a aithint.

### Leibhéal 5

Maidir le píchairt ar a bhfuil teascóga cothroma marcáilte, an codán/minicíocht a léiríonn teascóg a oibriú amach.